

Согласовано председателем НМС ФГБНУ «ФИПИ» по КИМ
для участников ГИА с инвалидностью, ограниченными возможностями здоровья
(протокол НМС № 1 от 10.11.2025 г.)
Утверждено приказом ФГБНУ «ФИПИ» № 367-П от 14.11.2025 г.

СПЕЦИФИКАЦИЯ
экзаменационных материалов для проведения в 2026 году
государственного выпускного экзамена по образовательным
программам основного общего образования (письменная форма)
по МАТЕМАТИКЕ

1. Назначение экзаменационной работы

Государственный выпускной экзамен (ГВЭ) представляет собой форму государственной итоговой аттестации по образовательным программам основного общего образования, проводимой в целях определения соответствия результатов освоения обучающимися образовательных программ основного общего образования соответствующим требованиям федерального государственного образовательного стандарта. ГВЭ проводится для обучающихся, осваивающих образовательные программы основного общего образования в специальных учебно-воспитательных учреждениях закрытого типа, а также в учреждениях, исполняющих наказание в виде лишения свободы, а также для обучающихся, экстернов с ограниченными возможностями здоровья, обучающихся, экстернов – детей-инвалидов и инвалидов, осваивающих образовательные программы основного общего образования.

ГВЭ проводится в соответствии с Федеральным законом от 29.12.2012 № 273-ФЗ «Об образовании в Российской Федерации» и Порядком проведения государственной итоговой аттестации по образовательным программам основного общего образования, утверждённым приказом Минпросвещения России и Рособрназора от 04.04.2023 № 232/551 (зарегистрирован Минюстом России 12.05.2023 № 73292).

2. Документы, определяющие содержание экзаменационной работы

Содержание экзаменационных материалов ГВЭ-9 определяется на основе федерального государственного образовательного стандарта основного общего образования (далее – ФГОС):

1) приказ Министерства просвещения Российской Федерации от 31.05.2021 № 287 «Об утверждении федерального государственного образовательного стандарта основного общего образования»;

2) приказ Министерства образования и науки Российской Федерации от 17.12.2010 № 1897 (с изменениями 2014–2022 гг.);

3) письмо Рособрназора от 19.12.2023 № 04-389.

Детализированные требования к результатам освоения основной образовательной программы основного общего образования, проверяемые на

основе ФГОС 2021 г., являются преемственными по отношению к требованиям ФГОС 2010 г.

При разработке экзаменационных материалов ГВЭ-9 учитывается содержание федеральной образовательной программы основного общего образования (приказ Министерства просвещения Российской Федерации от 18.05.2023 № 370 «Об утверждении федеральной образовательной программы основного общего образования» (с изменениями)), федеральной адаптированной образовательной программы основного общего образования для обучающихся с ограниченными возможностями здоровья (приказ Министерства просвещения Российской Федерации от 24.11.2022 № 1025 «Об утверждении федеральной адаптированной образовательной программы основного общего образования для обучающихся с ограниченными возможностями здоровья»).

3. Общие подходы к отбору содержания, разработке структуры экзаменационной работы

При разработке структуры и отборе содержания экзаменационной работы реализованы системно-деятельностный, уровневый и комплексный подходы к оценке образовательных достижений обучающихся.

Личностные результаты освоения обучающимися основной образовательной программы (на основе ФГОС 2021 г.) отражают готовность обучающихся руководствоваться системой позитивных ценностных ориентаций и расширение опыта деятельности на её основе и в процессе реализации основных направлений воспитательной деятельности. Содержание и результаты выполнения заданий ГВЭ связаны в том числе с достижением личностных результатов освоения основной образовательной программы в части физического, трудового, экологического воспитания, а также принятия ценности научного познания.

Включённые в экзаменационную работу задания выявляют достижение метапредметных и предметных результатов освоения основной образовательной программы основного общего образования. При выполнении заданий, помимо предметных знаний, умений, навыков и способов познавательной деятельности, востребованы также универсальные учебные познавательные (замещение, моделирование, кодирование и декодирование информации, логические операции, включая общие приёмы решения задач и др.), коммуникативные (адекватно передавать информацию и отображать предметное содержание и условия деятельности и речи, аргументировать и обосновывать свою позицию, задавать вопросы, необходимые для организации собственной деятельности и сотрудничества с партнёром и др.) и регулятивные (способность принимать и сохранять учебную цель и задачу, планировать её реализацию, контролировать и оценивать свои действия, вносить соответствующие коррективы в их выполнение, осуществлять констатирующий и предвосхищающий контроль по результату и способу действия, актуальный контроль на уровне произвольного внимания и др.) действия.

При составлении заданий и экзаменационной работы в целом учитываются предусмотренные федеральной адаптированной образовательной программой основного общего образования для обучающихся с ограниченными возможностями здоровья обобщённые критерии «знание и понимание», «применение», «функциональность».

Для глухих, слабослышащих, позднооглохших, имеющих кохлеарные импланты участников экзамена с учётом их образовательных потребностей адаптированы текстовые части задач, что подразумевает упрощение грамматического и семантического оформления конструкций, использование преимущественно общеупотребительной лексики.

4. Виды экзаменационной работы ГВЭ-9

Письменный экзамен ГВЭ-9 по математике проводится в нескольких форматах в целях учёта возможностей разных категорий его участников: участников без ОВЗ и участников с ОВЗ.

Экзаменационные материалы с 100-ми номерами вариантов – для участников ГВЭ-9 без ОВЗ и обучающихся с ОВЗ: глухих, слабослышащих, позднооглохших, имеющих кохлеарные имплантаты экзаменуемых; с тяжёлыми нарушениями речи; для обучающихся, экстернов с нарушениями опорно-двигательного аппарата (далее – НОДА), осваивающих вариант 6.1 ФАОП ООО¹; с расстройствами аутистического спектра; иных категорий участников ГВЭ, которым требуется создание специальных условий (с диабетом, онкологическими заболеваниями, астмой и др.).

Экзаменационные материалы с 200-ми номерами вариантов – для слепых обучающихся, слабовидящих и поздноослепших обучающихся. Для слепых обучающихся задания переводятся на рельефно-точечный шрифт Брайля. Экзаменационные материалы аналогичны 100-м номерам вариантов, но в текстах заданий сведено к минимуму количество изображений.

Экзаменационные материалы с 300-ми номерами вариантов – для участников ГВЭ-9 с задержкой психического развития, обучающихся по адаптированным основным общеобразовательным программам; для обучающихся с НОДА, осваивающих вариант 6.2 ФАОП ООО.

Описание экзаменационных материалов
с 100-ми номерами вариантов

5. Структура и содержание экзаменационной работы

Каждый вариант экзаменационной работы с 100-ми номерами вариантов содержит 14 заданий базового уровня сложности. Во всех заданиях необходимо записать ответ в виде целого числа, конечной десятичной дроби или последовательности цифр.

¹ По заключению психолого-медико-педагогической комиссии (далее – ПМПК) участникам ГВЭ-9 с НОДА, РАС, обучающимся по ФАОП ООО любого варианта программы, могут быть рекомендованы экзаменационные материалы с 300-ми номерами вариантов.

Задания группируются исходя из их тематической принадлежности: алгебра, геометрия, вероятность и статистика.

В экзаменационной работе ГВЭ-9 контролируются элементы содержания из следующих учебных курсов математики:

- 1. *Математика*. 5–6 классы;
- 2. *Алгебра*. 7–9 классы;
- 3. *Геометрия*. 7–9 классы;
- 4. *Вероятность и статистика*. 7–9 классы.

В таблице 1 приведено распределение заданий по основным содержательным разделам.

Таблица 1
Распределение заданий по основным
содержательным разделам (темам) курса математики

Содержательные разделы (темы) курса	Количество заданий
Алгебра	9
Геометрия	4
Вероятность и статистика	1
Итого	14

6. Распределение заданий экзаменационной работы по уровням сложности

К заданиям базового уровня относится 14 заданий, направленных на проверку освоения базовых умений и практических навыков применения математических знаний в повседневных ситуациях.

7. Продолжительность экзамена

На выполнение экзаменационной работы по математике даётся 3 часа 55 минут (235 минут).

8. Дополнительные материалы и оборудование

Перечень дополнительных материалов и оборудования, использование которых разрешено при проведении ГВЭ-9, утверждается приказом Минпросвещения России и Рособрнадзора.

При выполнении заданий ГВЭ-9 в письменной форме разрешается использовать линейку для построения чертежей и рисунков; справочные материалы, содержащие основные формулы курса математики образовательной программы основного общего образования.

9. Система оценивания выполнения отдельных заданий и экзаменационной работы в целом

Каждое из заданий 1–14 с кратким ответом считается выполненным, если записанный ответ совпадает с верным ответом.

Максимальный первичный балл за выполнение экзаменационной работы – 14.

Результатом экзамена является отметка, которая определяется путём перевода первичных баллов, полученных участником экзамена за выполнение всех заданий экзаменационной работы, в пятибалльную систему оценки. Шкала перевода устанавливается органом исполнительной власти субъекта Российской Федерации, осуществляющим государственное управление в сфере образования.

В таблице 2 приведена рекомендуемая шкала перевода первичных баллов в пятибалльную отметку.

Таблица 2

Рекомендуемая шкала перевода первичных баллов в пятибалльную отметку

Отметка по пятибалльной шкале	«2»	«3»	«4»	«5»
Диапазон первичных баллов	0–3	4–6	7–9	10–14

10. Изменения в экзаменационных материалах 2026 года по сравнению с 2025 годом

Изменения структуры и содержания экзаменационных материалов отсутствуют.

Обобщённый план варианта экзаменационных материалов
ГВЭ-9 (письменная форма) 2026 года по МАТЕМАТИКЕ
(100-е номера вариантов)

Уровни сложности задания: Б – базовый, П – повышенный.

№ задания	Проверяемые предметные результаты освоения основной образовательной программы	Уровень сложности	Максимальный первичный балл за выполнение задания
1	Умение решать задачи разных типов; умение решать задачи, в том числе из повседневной жизни	Б	1
2	Умение решать задачи разных типов; умение исследовать полученное решение; умение решать задачи, в том числе из повседневной жизни	Б	1
3	Умение решать задачи разных типов, исследовать полученное решение; умение решать задачи, в том числе из повседневной жизни, нахождение геометрических величин с применением изученных свойств фигур и фактов	Б	1
4	Умение выполнять действия с числами, представлять числа на координатной прямой; умение делать прикидку и оценку результата вычислений	Б	1
5	Умение решать линейные и квадратные уравнения, системы линейных уравнений, линейные неравенства и их системы, квадратные и дробно-рациональные неравенства, в том числе при решении задач из других предметов и практических задач	Б	1
6	Умение выполнять расчёты по формулам, преобразования выражений, в том числе с использованием формул разности квадратов и квадрата суммы и разности	Б	1
7	Умение строить графики функций, использовать графики для определения свойств процессов и зависимостей для решения задач из других учебных предметов и реальной жизни; умение выражать формулами зависимости между величинами	Б	1
8	Умение решать линейные и квадратные уравнения, системы линейных уравнений, линейные неравенства и их системы, квадратные и дробно-рациональные неравенства, в том числе при решении задач из других предметов и практических задач; умение использовать координатную прямую и координатную плоскость для изображения решений уравнений, неравенств и систем	Б	1

№ задания	Проверяемые предметные результаты освоения основной образовательной программы	Уровень сложности	Максимальный первичный балл за выполнение задания
9	Умение применять формулы периметра и площади многоугольников, длины окружности и площади круга, объёма прямоугольного параллелепипеда; умение применять признаки равенства треугольников, теорему о сумме углов треугольника, теорему Пифагора, тригонометрические соотношения для вычисления длин, расстояний, площадей	Б	1
10	Умение применять формулы периметра и площади многоугольников, длины окружности и площади круга, объёма прямоугольного параллелепипеда; умение применять признаки равенства треугольников, теорему о сумме углов треугольника, теорему Пифагора, тригонометрические соотношения для вычисления длин, расстояний, площадей	Б	1
11	Умение распознавать истинные и ложные высказывания	Б	1
12	Умение решать задачи разных типов; умение составлять выражения, уравнения, неравенства и системы по условию задачи, исследовать полученное решение	Б	1
13	Умение находить вероятности случайных событий в опытах с равновероятными элементарными событиями	Б	1
14	Умение решать задачи разных типов; умение составлять выражения, уравнения, неравенства и системы по условию задачи, исследовать полученное решение	Б	1
<p>Всего заданий – 14; из них по типу заданий: с кратким ответом – 14; по уровню сложности: Б – 14. Максимальный первичный балл за работу – 14. Общее время выполнения работы – 3 часа 55 минут (235 минут).</p>			

Описание экзаменационной работы с 200-ми номерами вариантов

5. Структура и содержание экзаменационной работы

Каждый вариант экзаменационной работы с 200-ми номерами вариантов содержит 11 заданий базового уровня сложности и 1 задание повышенного уровня сложности. Во всех заданиях необходимо записать ответ в виде целого числа, конечной десятичной дроби или последовательности цифр.

Задания группируются исходя из их тематической принадлежности: алгебра, геометрия, вероятность и статистика.

В экзаменационной работе ГВЭ-9 контролируются элементы содержания из следующих учебных курсов математики:

1. *Математика*. 5–6 классы;
2. *Алгебра*. 7–9 классы;
3. *Геометрия*. 7–9 классы;
4. *Вероятность и статистика*. 7–9 классы.

В таблице 3 приведено распределение заданий по основным содержательным разделам.

Таблица 3
Распределение заданий по основным
содержательным разделам (темам) курса математики

Содержательные разделы (темы) курса	Количество заданий
Алгебра	8
Геометрия	3
Вероятность и статистика	1
Итого	12

6. Распределение заданий экзаменационной работы по уровням сложности

К заданиям базового уровня относится 11 заданий, направленных на проверку освоения базовых умений и практических навыков применения математических знаний в повседневных ситуациях. К заданиям повышенного уровня относится одно задание, направленное на проверку освоения математики на повышенном уровне сложности.

7. Продолжительность экзамена

На выполнение экзаменационной работы по математике даётся 3 часа 55 минут (235 минут).

8. Дополнительные материалы и оборудование

Перечень дополнительных материалов и оборудования, использование которых разрешено при проведении ГВЭ-9, утверждается приказом Минпросвещения России и Рособрнадзора.

Необходимые справочные материалы выдаются вместе с текстом экзаменационной работы. При выполнении заданий ГВЭ-9 в письменной форме разрешается пользоваться линейкой.

9. Система оценивания выполнения отдельных заданий и экзаменационной работы в целом

Каждое из заданий 1–12 считается выполненным, если записанный ответ совпадает с верным ответом.

Максимальный первичный балл за выполнение экзаменационной работы – 12.

Результатом экзамена является отметка, которая определяется путём перевода первичных баллов, полученных участником экзамена за выполнение всех заданий экзаменационной работы, в пятибалльную систему оценки. Шкала перевода устанавливается органом исполнительной власти субъекта Российской Федерации, осуществляющим государственное управление в сфере образования.

В таблице 4 приведена рекомендуемая шкала перевода первичных баллов в пятибалльную отметку.

Таблица 4
Рекомендуемая шкала перевода первичных баллов в пятибалльную отметку

Отметка по пятибалльной шкале	«2»	«3»	«4»	«5»
Диапазон первичных баллов	0–3	4–6	7–9	10–12

10. Изменения в экзаменационных материалах 2026 года по сравнению с 2025 годом

Изменения структуры и содержания экзаменационных материалов отсутствуют.

Обобщённый план варианта экзаменационных материалов
ГВЭ-9 (письменная форма) 2026 года по МАТЕМАТИКЕ
(200-е номера вариантов)

Уровни сложности задания: Б – базовый, П – повышенный.

№ задания	Проверяемые требования к результатам освоения основной образовательной программы	Уровень сложности	Максимальный первичный балл
1	Умение выполнять действия с числами, представлять числа на координатной прямой; умение делать прикидку и оценку результата вычислений	Б	1
2	Умение решать линейные и квадратные уравнения, системы линейных уравнений, линейные неравенства и их системы, квадратные и дробно-рациональные неравенства, в том числе при решении задач из других предметов и практических задач	Б	1
3	Умение выполнять расчёты по формулам, преобразования выражений, в том числе с использованием формул разности квадратов и квадрата суммы и разности	Б	1
4	Умение строить графики функций, использовать графики для определения свойств процессов и зависимостей для решения задач из других учебных предметов и реальной жизни; умение выражать формулами зависимости между величинами	Б	1
5	Умение решать линейные и квадратные уравнения, системы линейных уравнений, линейные неравенства и их системы, квадратные и дробно-рациональные неравенства, в том числе при решении задач из других предметов и практических задач; умение использовать координатную прямую и координатную плоскость для изображения решений уравнений, неравенств и систем	Б	1
6	Умение применять формулы периметра и площади многоугольников, длины окружности и площади круга, объёма прямоугольного параллелепипеда; умение применять признаки равенства треугольников, теорему о сумме углов треугольника, теорему Пифагора, тригонометрические соотношения для вычисления длин, расстояний, площадей	Б	1
7	Умение применять формулы периметра и площади многоугольников, длины окружности и площади круга, объёма прямоугольного параллелепипеда; умение применять признаки равенства треугольников, теорему о сумме углов треугольника, теорему Пифагора, тригонометрические соотношения для вычисления длин, расстояний, площадей	Б	1

№ задания	Проверяемые требования к результатам освоения основной образовательной программы	Уровень сложности	Максимальный первичный балл
8	Умение распознавать истинные и ложные высказывания	Б	1
9	Умение выполнять расчёты по формулам, преобразования выражений, в том числе с использованием формул разности квадратов и квадрата суммы и разности	Б	1
10	Умение находить вероятности случайных событий в опытах с равновероятными элементарными событиями	Б	1
11	Умение использовать свойства последовательностей, формулы суммы и общего члена при решении задач, в том числе задач из других учебных предметов и реальной жизни	Б	1
12	Умение решать задачи разных типов; умение составлять выражения, уравнения, неравенства и системы по условию задачи, исследовать полученное решение	П	1
<p>Всего заданий – 12; из них по типу заданий: с кратким ответом – 12; по уровню сложности: Б – 11; П – 1. Максимальный первичный балл за работу – 12. Общее время выполнения работы – 3 часа 55 минут (235 минут).</p>			

Описание экзаменационной работы с 300-ми номерами вариантов

5. Структура и содержание экзаменационной работы

Каждый вариант экзаменационной работы с 300-ми номерами вариантов содержит 10 заданий базового уровня сложности с кратким ответом, в которых необходимо записать ответ в виде целого числа, конечной десятичной дроби или последовательности цифр.

Задания группируются исходя из их тематической принадлежности: алгебра, геометрия, вероятность и статистика.

В экзаменационной работе ГВЭ-9 контролируются элементы содержания из следующих учебных курсов математики:

1. *Математика*. 5–6 классы;
2. *Алгебра*. 7–9 классы;
3. *Геометрия*. 7–9 классы;
4. *Вероятность и статистика*. 7–9 классы.

В таблице 5 приведено распределение заданий по основным содержательным разделам.

Таблица 5
Распределение заданий по основным
содержательным разделам (темам) курса математики

Содержательные разделы (темы) курса	Количество заданий
Алгебра	6
Геометрия	3
Вероятность и статистика	1
Итого	10

6. Распределение заданий экзаменационной работы по уровням сложности

В экзаменационной работе представлены задания базового уровня сложности. Эти задания направлены на проверку освоения базовых умений и практических навыков применения математических знаний в повседневных ситуациях.

7. Продолжительность экзамена

На выполнение экзаменационной работы по математике даётся 3 часа 55 минут (235 минут).

8. Дополнительные материалы и оборудование

Перечень дополнительных материалов и оборудования, использование которых разрешено при проведении ГВЭ-9, утверждается приказом Минпросвещения России и Рособрназора.

Необходимые справочные материалы выдаются вместе с текстом экзаменационной работы. При выполнении заданий ГВЭ-9 в письменной форме разрешается пользоваться линейкой.

9. Система оценивания выполнения отдельных заданий и экзаменационной работы в целом

Каждое из заданий 1–10 с кратким ответом считается выполненным, если записанный ответ совпадает с верным ответом.

Максимальный первичный балл за выполнение экзаменационной работы – 10.

Результатом экзамена является отметка, которая определяется путём перевода первичных баллов, полученных участником экзамена за выполнение всех заданий экзаменационной работы, в пятибалльную систему оценки. Шкала перевода устанавливается органом исполнительной власти субъекта Российской Федерации, осуществляющим государственное управление в сфере образования.

В таблице 6 приведена рекомендуемая шкала перевода первичных баллов в пятибалльную отметку.

Таблица 6

Рекомендуемая шкала перевода первичных баллов в пятибалльную отметку

Отметка по пятибалльной шкале	«2»	«3»	«4»	«5»
Диапазон первичных баллов	0–2	3–5	6–8	9–10

10. Изменения в экзаменационных материалах 2026 года по сравнению с 2025 годом

Изменения структуры и содержания экзаменационных материалов отсутствуют.

Обобщённый план варианта экзаменационных материалов ГВЭ-9 (письменная форма) 2026 года по МАТЕМАТИКЕ (300-е номера вариантов)

Уровень сложности задания: Б – базовый.

№ задания	Проверяемые требования к результатам освоения основной образовательной программы	Уровень сложности	Максимальный первичный балл
1	Умение выполнять действия с числами, представлять числа на координатной прямой; умение делать прикидку и оценку результата вычислений	Б	1
2	Умение решать линейные и квадратные уравнения, системы линейных уравнений, линейные неравенства и их системы, квадратные и дробно-рациональные неравенства, в том числе при решении задач из других предметов и практических задач	Б	1
3	Умение выполнять расчёты по формулам, преобразования выражений, в том числе с использованием формул разности квадратов и квадрата суммы и разности	Б	1
4	Умение строить графики функций, использовать графики для определения свойств процессов и зависимостей для решения задач из других учебных предметов и реальной жизни; умение выражать формулами зависимости между величинами	Б	1
5	Умение решать линейные и квадратные уравнения, системы линейных уравнений, линейные неравенства и их системы, квадратные и дробно-рациональные неравенства, в том числе при решении задач из других предметов и практических задач; умение использовать координатную прямую и координатную плоскость для изображения решений уравнений, неравенств и систем	Б	1
6	Умение применять формулы периметра и площади многоугольников, длины окружности и площади круга, объёма прямоугольного параллелепипеда; умение применять признаки равенства треугольников, теорему о сумме углов треугольника, теорему Пифагора, тригонометрические соотношения для вычисления длин, расстояний, площадей	Б	1
7	Умение применять формулы периметра и площади многоугольников, длины окружности и площади круга, объёма прямоугольного параллелепипеда; умение применять признаки равенства треугольников, теорему о сумме углов треугольника, теорему Пифагора, тригонометрические соотношения для вычисления длин, расстояний, площадей	Б	1
8	Умение распознавать истинные и ложные высказывания	Б	1

№ задания	Проверяемые требования к результатам освоения основной образовательной программы	Уровень сложности	Максимальный первичный балл
9	Умение решать задачи разных типов; умение исследовать полученное решение; умение решать задачи, в том числе из повседневной жизни	Б	1
10	Умение находить вероятности случайных событий в опытах с равновероятными элементарными событиями	Б	1
<p>Всего заданий – 10; из них по типу заданий: с кратким ответом – 10; по уровню сложности: Б – 10. Максимальный первичный балл за работу – 10. Общее время выполнения работы – 3 часа 55 минут (235 минут).</p>			

Пояснения к образцам экзаменационных материалов

ГВЭ-9 (письменная форма) по МАТЕМАТИКЕ

При ознакомлении с образцами экзаменационных материалов ГВЭ-9 (письменная форма) следует иметь в виду, что в образце представлены конкретные примеры заданий, не исчерпывающие всего многообразия возможных формулировок заданий на каждой позиции варианта экзаменационной работы.

Назначение каждого образца экзаменационного материала заключается в том, чтобы дать возможность любому участнику ГВЭ составить представление о структуре будущих вариантов экзаменационных материалов, количестве заданий, об их форме и уровне сложности.

Эти сведения позволят выпускникам выработать стратегию подготовки к ГВЭ-9 по математике в 2026 г.

**Образец экзаменационного материала
ГВЭ-9 (письменная форма) 2026 года по МАТЕМАТИКЕ
(100-е номера вариантов)**

Инструкция по выполнению работы

Экзаменационная работа состоит из 14 заданий базового уровня сложности с кратким ответом.

На выполнение экзаменационной работы по математике отводится 3 часа 55 минут (235 минут).

Ответы запишите в поля ответов в работе, а затем перенесите в бланк ответов. Для этого в бланке ответов запишите номера всех заданий в столбец следующим образом:

- 1)
- 2)
- 3)
- ...
- 13)
- 14)

Ответы запишите в бланк ответов справа от номеров соответствующих заданий. В случае записи неверного ответа зачеркните его и запишите рядом новый.

При выполнении работы разрешается использовать линейку.

Бланк ответов заполняется яркими чёрными чернилами. Допускается использование гелевой или капиллярной ручки.

При выполнении заданий можно пользоваться черновиком. Записи в черновике не учитываются при оценивании работы.

Баллы, полученные Вами за выполненные задания, суммируются. Постарайтесь выполнить как можно больше заданий и набрать наибольшее количество баллов.

Желаем успеха!

СПРАВОЧНЫЕ МАТЕРИАЛЫ ПО МАТЕМАТИКЕ

АЛГЕБРА

- Формула корней квадратного уравнения $ax^2 + bx + c = 0$:

$$x = \frac{-b \pm \sqrt{D}}{2a}, \text{ где } D = b^2 - 4ac.$$

- Если квадратный трёхчлен $ax^2 + bx + c$ имеет два корня x_1 и x_2 , то

$$ax^2 + bx + c = a(x - x_1)(x - x_2);$$

если квадратный трёхчлен $ax^2 + bx + c$ имеет единственный корень x_0 , то

$$ax^2 + bx + c = a(x - x_0)^2.$$

- Абсцисса вершины параболы, заданной уравнением $y = ax^2 + bx + c$:

$$x_0 = -\frac{b}{2a}.$$

- Формула n -го члена арифметической прогрессии (a_n) , первый член которой равен a_1 и разность равна d :

$$a_n = a_1 + d(n - 1).$$

- Формула суммы первых n членов арифметической прогрессии:

$$S_n = \frac{(a_1 + a_n)n}{2}.$$

- Формула n -го члена геометрической прогрессии b_n , первый член которой равен b_1 , а знаменатель равен q :

$$b_n = b_1 \cdot q^{n-1}$$

- Формула суммы первых n членов геометрической прогрессии:

$$S_n = \frac{(q^n - 1)b_1}{q - 1}.$$

- Формулы сокращённого умножения:

$$(a + b)^2 = a^2 + 2ab + b^2;$$

$$(a - b)^2 = a^2 - 2ab + b^2;$$

$$a^2 - b^2 = (a - b)(a + b).$$

- Свойства арифметического квадратного корня:

$$\sqrt{ab} = \sqrt{a} \cdot \sqrt{b} \text{ при } a \geq 0, b \geq 0; \quad \sqrt{\frac{a}{b}} = \frac{\sqrt{a}}{\sqrt{b}} \text{ при } a \geq 0, b > 0.$$

- Свойства степени при $a > 0, b > 0$

$$a^{-n} = \frac{1}{a^n}; \quad a^n \cdot a^m = a^{n+m}; \quad \frac{a^n}{a^m} = a^{n-m};$$

$$(a^n)^m = a^{nm}; \quad (ab)^n = a^n \cdot b^n; \quad \left(\frac{a}{b}\right)^n = \frac{a^n}{b^n}.$$

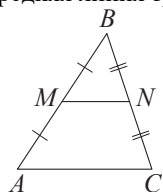
Таблица квадратов двузначных чисел

		Единицы									
		0	1	2	3	4	5	6	7	8	9
Десятки	1	100	121	144	169	196	225	256	289	324	361
	2	400	441	484	529	576	625	676	729	784	841
	3	900	961	1024	1089	1156	1225	1296	1369	1444	1521
	4	1600	1681	1764	1849	1936	2025	2116	2209	2304	2401
	5	2500	2601	2704	2809	2916	3025	3136	3249	3364	3481
	6	3600	3721	3844	3969	4096	4225	4356	4489	4624	4761
	7	4900	5041	5184	5329	5476	5625	5776	5929	6084	6241
	8	6400	6561	6724	6889	7056	7225	7396	7569	7744	7921
	9	8100	8281	8464	8649	8836	9025	9216	9409	9604	9801

ГЕОМЕТРИЯ

Сумма углов выпуклого n -угольника равна $180^\circ(n-2)$.

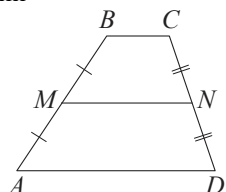
Средняя линия треугольника и трапеции



$$MN \text{ — ср. лин.}$$

$$MN \parallel AC$$

$$MN = \frac{AC}{2}$$



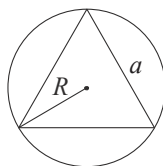
$$BC \parallel AD$$

$$MN \text{ — ср. лин.}$$

$$MN \parallel AD$$

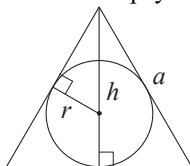
$$MN = \frac{BC + AD}{2}$$

Описанная и вписанная окружности правильного треугольника



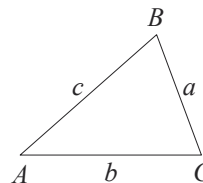
$$R = \frac{a\sqrt{3}}{3}$$

$$S = \frac{a^2\sqrt{3}}{4}$$



$$r = \frac{a\sqrt{3}}{6}$$

$$h = \frac{a\sqrt{3}}{2}$$



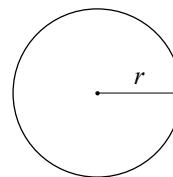
Для треугольника ABC со сторонами $AB=c$, $AC=b$, $BC=a$:

$$\frac{a}{\sin A} = \frac{b}{\sin B} = \frac{c}{\sin C} = 2R,$$

где R — радиус описанной окружности.

Для треугольника ABC со сторонами $AB=c$, $AC=b$, $BC=a$:

$$c^2 = a^2 + b^2 - 2ab \cos C.$$

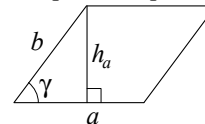


Длина окружности $C = 2\pi r$.

Площадь круга $S = \pi r^2$.

Площади фигур

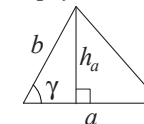
Параллелограмм



$$S = ah_a$$

$$S = ab \sin \gamma$$

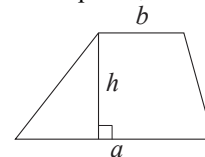
Треугольник



$$S = \frac{1}{2} ah_a$$

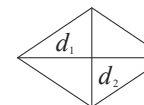
$$S = \frac{1}{2} ab \sin \gamma$$

Трапеция



$$S = \frac{a+b}{2} \cdot h$$

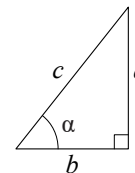
Ромб



$$d_1, d_2 \text{ — диагонали}$$

$$S = \frac{1}{2} d_1 d_2$$

Прямоугольный треугольник



$$\sin \alpha = \frac{a}{c}$$

$$\cos \alpha = \frac{b}{c}$$

$$\operatorname{tg} \alpha = \frac{a}{b}$$

Теорема Пифагора: $a^2 + b^2 = c^2$.
Основное тригонометрическое тождество: $\sin^2 \alpha + \cos^2 \alpha = 1$.

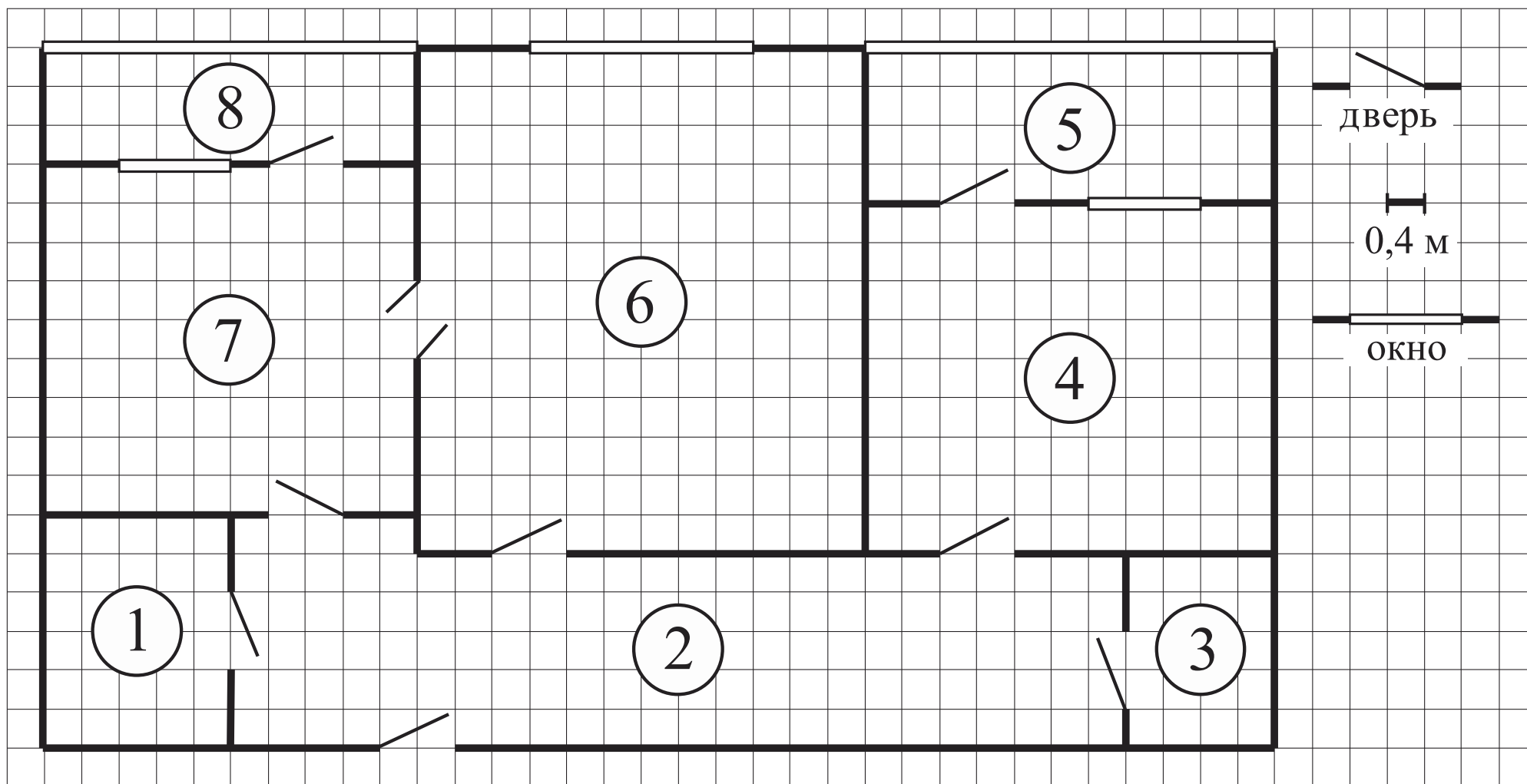
Некоторые значения тригонометрических функций

α	градусы	0°	30°	45°	60°	90°	180°	270°	360°
$\sin \alpha$		0	$\frac{1}{2}$	$\frac{\sqrt{2}}{2}$	$\frac{\sqrt{3}}{2}$	1	0	−1	0
$\cos \alpha$		1	$\frac{\sqrt{3}}{2}$	$\frac{\sqrt{2}}{2}$	$\frac{1}{2}$	0	−1	0	1
$\operatorname{tg} \alpha$		0	$\frac{\sqrt{3}}{3}$	1	$\sqrt{3}$	—	0	—	0

Ответами к заданиям 1–14 являются целое число, конечная десятичная дробь или последовательность цифр. Ответ запишите в поле ответа в тексте работы, затем перенесите в БЛАНК ОТВЕТОВ справа от номера соответствующего задания. Единицы измерений писать не нужно.

Прочитайте внимательно текст и выполните задания 1–3.

На рисунке изображён план двухкомнатной квартиры. Сторона одной клетки на плане соответствует 0,4 м, а условные обозначения двери и окна приведены в правой части рисунка.
Вход в квартиру находится в коридоре. Слева от входа расположена дверь в ванную комнату и туалет, а в противоположном конце коридора — дверь в кладовую. Рядом с кладовой находится спальня. Из неё можно пройти на одну из лоджий. Из кухни также можно попасть на лоджию. Самое большое по площади помещение — гостиная. Из неё можно попасть в коридор и на кухню.



- 1 Для объектов, указанных в таблице, определите, какими цифрами они обозначены на плане. Заполните таблицу, в бланк перенесите последовательность четырёх цифр без пробелов, запятых и других дополнительных символов.

Объекты	коридор	кладовая	спальня	гостиная
Цифры				

- 2 Паркетная доска размером 20 см на 80 см продаётся в упаковках по 12 штук. Сколько упаковок паркетной доски понадобилось, чтобы выложить пол в коридоре?

Ответ: _____.

- 3 На сколько процентов площадь лоджии, примыкающей к кухне, больше площади кладовой?

Ответ: _____.

- 4 Найдите значение выражения $\frac{1}{\frac{1}{30} + \frac{1}{42}}$.

Ответ: _____.

- 5 Решите уравнение

$$2x^2 - 3x + 1 = 0.$$

Если уравнение имеет более одного корня, в ответ запишите меньший из корней.

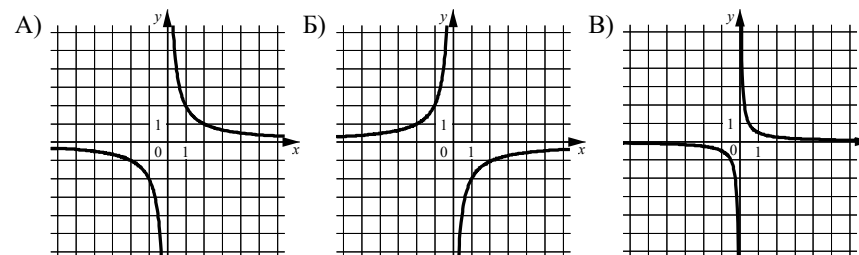
Ответ: _____.

- 6 Найдите значение выражения $\frac{\sqrt{15} \cdot \sqrt{12}}{\sqrt{20}}$.

Ответ: _____.

- 7 Установите соответствие между графиками функций и формулами, которые их задают.

ГРАФИКИ



ФОРМУЛЫ

- 1) $y = \frac{2}{x}$ 2) $y = \frac{1}{2x}$ 3) $y = -\frac{2}{x}$

В таблице под каждой буквой укажите соответствующий номер.

Ответ:

А	Б	В

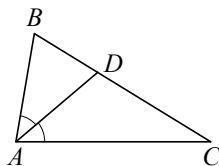
- 8 Укажите решение неравенства

$$4x + 5 \geq 6x - 2.$$

- 1) 3)
 2) 4)

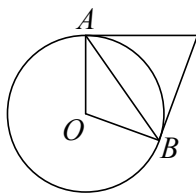
Ответ:

- 9 Известно, что в треугольнике ABC $\angle BAC = 82^\circ$, AD — биссектриса. Найдите угол BAD . Ответ дайте в градусах.



Ответ: _____.

- 10 Касательные в точках A и B к окружности с центром в точке O пересекаются под углом 72° . Найдите угол ABO . Ответ дайте в градусах.



Ответ: _____.

- 11 Какие из следующих утверждений истинные?

- 1) Через точку, не лежащую на данной прямой, можно провести прямую, параллельную этой прямой.
- 2) Если диагонали параллелограмма равны, то этот параллелограмм является ромбом.
- 3) Расстояние от точки, лежащей на окружности, до центра окружности равно радиусу.

В ответе запишите номера выбранных утверждений без пробелов, запятых и других дополнительных символов.

Ответ: _____.

- 12 Кинетическая энергия тела массой m кг, движущегося со скоростью $v \frac{\text{м}}{\text{с}}$, вычисляется по формуле

$$E = \frac{mv^2}{2}$$

и измеряется в джоулях (Дж). Известно, что автомобиль массой 1200 кг обладает кинетической энергией 240 тысяч джоулей. Найдите скорость этого автомобиля в метрах в секунду.

Ответ: _____.

- 13 Оля, Денис, Витя, Артур и Рита бросили жребий — кому начинать игру. Найдите вероятность того, что начинать игру должна будет девочка.

Ответ: _____.

- 14 В амфитеатре 15 рядов, причём в каждом следующем ряду на одно и то же число мест больше, чем в предыдущем. В третьем ряду 26 мест, а в седьмом ряду — 38 мест. Сколько мест в последнем ряду амфитеатра?

Ответ: _____.

Не забудьте перенести все ответы в БЛАНК ОТВЕТОВ в соответствии с инструкцией по выполнению работы.

**Система оценивания экзаменационной работы по математике
(100-е номера вариантов)**

Каждое из заданий 1–14 считается выполненным верно, если экзаменуемый дал верный ответ в виде целого числа, конечной десятичной дроби или последовательности цифр. Верное выполнение каждого задания оценивается 1 баллом. В ответе на задание 11 порядок записи цифр значения не имеет.

Номер задания	Правильный ответ
1	2346
2	11
3	50
4	17,5
5	0,5
6	3
7	132
8	2
9	41
10	36
11	13 <или> 31
12	20
13	0,4
14	62

**Образец экзаменационного материала
ГВЭ-9 (письменная форма) 2026 года по МАТЕМАТИКЕ
(200-е номера вариантов)**

Инструкция по выполнению работы

Экзаменационная работа состоит из 11 заданий базового уровня сложности и одного задания повышенного уровня сложности с кратким ответом.

На выполнение экзаменационной работы по математике отводится 3 часа 55 минут (235 минут).

Ответы к заданиям 1–12 запишите в бланке ответов. Для этого в бланке ответов запишите номера всех заданий в столбец следующим образом:

- 1)
- 2)
- 3)
- ...
- 11)
- 12)

Ответы к заданиям 1–12 запишите в бланк ответов справа от номеров соответствующих заданий. В случае записи неверного ответа зачеркните его и запишите рядом новый.

При выполнении работы разрешается использовать линейку.

Бланк ответов заполняется яркими чёрными чернилами. Допускается использование гелевой или капиллярной ручки.

При выполнении заданий можно пользоваться черновиком. Записи в черновике не учитываются при оценивании работы.

Баллы, полученные Вами за выполненные задания, суммируются. Постарайтесь выполнить как можно больше заданий и набрать наибольшее количество баллов.

Желаем успеха!

СПРАВОЧНЫЕ МАТЕРИАЛЫ ПО МАТЕМАТИКЕ

АЛГЕБРА

- Формула корней квадратного уравнения $ax^2 + bx + c = 0$:

$$x = \frac{-b \pm \sqrt{D}}{2a}, \text{ где } D = b^2 - 4ac.$$

- Если квадратный трёхчлен $ax^2 + bx + c$ имеет два корня x_1 и x_2 , то

$$ax^2 + bx + c = a(x - x_1)(x - x_2);$$

если квадратный трёхчлен $ax^2 + bx + c$ имеет единственный корень x_0 , то

$$ax^2 + bx + c = a(x - x_0)^2.$$

- Абсцисса вершины параболы, заданной уравнением $y = ax^2 + bx + c$:

$$x_0 = -\frac{b}{2a}.$$

- Формула n -го члена арифметической прогрессии (a_n) , первый член которой равен a_1 и разность равна d :

$$a_n = a_1 + d(n - 1).$$

- Формула суммы первых n членов арифметической прогрессии:

$$S_n = \frac{(a_1 + a_n)n}{2}.$$

- Формула n -го члена геометрической прогрессии b_n , первый член которой равен b_1 , а знаменатель равен q :

$$b_n = b_1 \cdot q^{n-1}.$$

- Формула суммы первых n членов геометрической прогрессии:

$$S_n = \frac{(q^n - 1)b_1}{q - 1}.$$

- Формулы сокращённого умножения:

$$(a + b)^2 = a^2 + 2ab + b^2;$$

$$(a - b)^2 = a^2 - 2ab + b^2;$$

$$a^2 - b^2 = (a - b)(a + b).$$

- Свойства арифметического квадратного корня:

$$\sqrt{ab} = \sqrt{a} \cdot \sqrt{b} \text{ при } a \geq 0, b \geq 0; \quad \sqrt{\frac{a}{b}} = \frac{\sqrt{a}}{\sqrt{b}} \text{ при } a \geq 0, b > 0.$$

- Свойства степени при $a > 0, b > 0$.

$$a^{-n} = \frac{1}{a^n}; \quad a^n \cdot a^m = a^{n+m}; \quad \frac{a^n}{a^m} = a^{n-m};$$

$$(a^n)^m = a^{nm}; \quad (ab)^n = a^n \cdot b^n; \quad \left(\frac{a}{b}\right)^n = \frac{a^n}{b^n}.$$

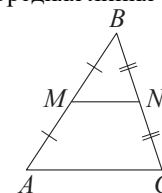
Таблица квадратов двузначных чисел

		Единицы									
		0	1	2	3	4	5	6	7	8	9
Десятки	1	100	121	144	169	196	225	256	289	324	361
	2	400	441	484	529	576	625	676	729	784	841
	3	900	961	1024	1089	1156	1225	1296	1369	1444	1521
	4	1600	1681	1764	1849	1936	2025	2116	2209	2304	2401
	5	2500	2601	2704	2809	2916	3025	3136	3249	3364	3481
	6	3600	3721	3844	3969	4096	4225	4356	4489	4624	4761
	7	4900	5041	5184	5329	5476	5625	5776	5929	6084	6241
	8	6400	6561	6724	6889	7056	7225	7396	7569	7744	7921
	9	8100	8281	8464	8649	8836	9025	9216	9409	9604	9801

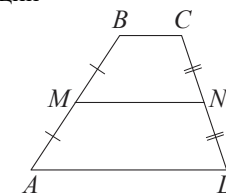
ГЕОМЕТРИЯ

Сумма углов выпуклого n -угольника равна $180^\circ(n - 2)$.

Средняя линия треугольника и трапеции

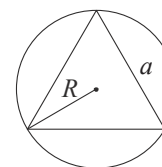


MN — средняя
линия
 $MN \parallel AC$
 $MN = \frac{AC}{2}$



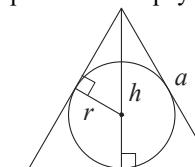
$BC \parallel AD$
 MN —
средняя линия
 $MN \parallel AD$
 $MN = \frac{BC + AD}{2}$

Описанная и вписанная окружности правильного треугольника



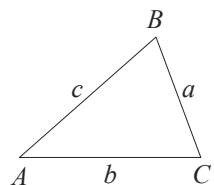
$$R = \frac{a\sqrt{3}}{3}$$

$$S = \frac{a^2\sqrt{3}}{4}$$



$$r = \frac{a\sqrt{3}}{6}$$

$$h = \frac{a\sqrt{3}}{2}$$

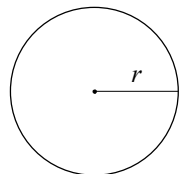


В треугольнике ABC со сторонами $AB = c$, $AC = b$, $BC = a$:

$$\frac{a}{\sin A} = \frac{b}{\sin B} = \frac{c}{\sin C} = 2R,$$

где R – радиус описанной окружности.

$$c^2 = a^2 + b^2 - 2ab \cos C.$$

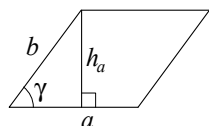


Длина окружности $C = 2\pi r$.

Площадь круга $S = \pi r^2$.

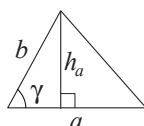
Площади фигур

1. Площадь параллелограмма равна произведению стороны на высоту, проведённую к этой стороне.
2. Площадь параллелограмма равна произведению двух смежных сторон на синус угла между ними.



$$S = ah_a$$

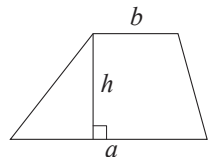
$$S = ab \sin \gamma$$



$$S = \frac{1}{2} ah_a$$

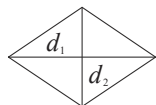
$$S = \frac{1}{2} ab \sin \gamma$$

Площадь трапеции равна произведению полусуммы оснований на высоту.



$$S = \frac{a+b}{2} \cdot h$$

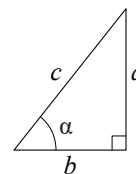
Площадь ромба равна половине произведения диагоналей.



$$d_1, d_2 \text{ — диагонали}$$

$$S = \frac{1}{2} d_1 d_2$$

Прямоугольный треугольник



$$\sin \alpha = \frac{a}{c}$$

$$\cos \alpha = \frac{b}{c}$$

$$\operatorname{tg} \alpha = \frac{a}{b}$$

В прямоугольном треугольнике:

1. Синус острого угла равен отношению противолежащего катета к гипотенузе.
2. Косинус острого угла равен отношению прилежащего катета к гипотенузе.
3. Тангенс острого угла равен отношению противолежащего катета к прилежащему.

Теорема Пифагора. В прямоугольном треугольнике сумма квадратов катетов равна квадрату гипотенузы: $a^2 + b^2 = c^2$.

Основное тригонометрическое тождество: $\sin^2 \alpha + \cos^2 \alpha = 1$.

Некоторые значения тригонометрических функций

α	градусы	0°	30°	45°	60°	90°	180°	270°	360°
$\sin \alpha$		0	$\frac{1}{2}$	$\frac{\sqrt{2}}{2}$	$\frac{\sqrt{3}}{2}$	1	0	-1	0
$\cos \alpha$		1	$\frac{\sqrt{3}}{2}$	$\frac{\sqrt{2}}{2}$	$\frac{1}{2}$	0	-1	0	1
$\operatorname{tg} \alpha$		0	$\frac{\sqrt{3}}{3}$	1	$\sqrt{3}$	—	0	—	0

Ответами к заданиям 1–12 являются целое число, конечная десятичная дробь или последовательность цифр. Ответ запишите в поле ответа в тексте работы, затем перенесите в БЛАНК ОТВЕТОВ справа от номера соответствующего задания. Единицы измерений писать не нужно.

1 Найдите значение выражения $\frac{1}{\frac{1}{30} + \frac{1}{42}}$.

Ответ: _____.

2 Решите уравнение

$$2x^2 - 3x + 1 = 0.$$

Если уравнение имеет более одного корня, в ответ запишите меньший из корней.

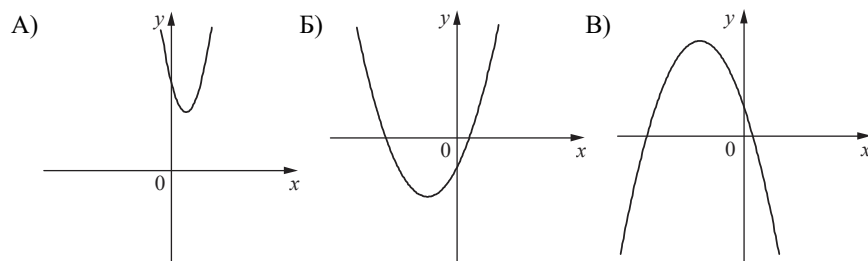
Ответ: _____.

3 Найдите значение выражения $\frac{\sqrt{15} \cdot \sqrt{12}}{\sqrt{20}}$.

Ответ: _____.

4 На рисунках изображены графики функций вида $y = ax^2 + bx + c$. Установите соответствие между графиками функций и знаками коэффициентов a и c .

ГРАФИКИ



КОЭФФИЦИЕНТЫ

1) $a > 0, c < 0$

2) $a < 0, c > 0$

3) $a > 0, c > 0$

В таблице под каждой буквой укажите соответствующий номер.

А	Б	В

Ответ:

5 Укажите решение неравенства

$$4x - 4 \geq 9x + 6.$$

1) $[-0,4; +\infty)$ 2) $(-\infty; -2]$ 3) $[-2; +\infty)$ 4) $(-\infty; -0,4]$

Ответ:

6 В треугольнике два угла равны 57° и 86° . Найдите его третий угол. Ответ дайте в градусах.

Ответ: _____.

7 Найдите площадь квадрата, описанного около окружности радиуса 40.

Ответ: _____.

8 Какие из следующих утверждений истинные?

- 1) Через точку, не лежащую на данной прямой, можно провести прямую, параллельную этой прямой.
- 2) Если диагонали параллелограмма равны, то этот параллелограмм является ромбом.
- 3) Расстояние от точки, лежащей на окружности, до центра окружности равно радиусу.

В ответе запишите номера выбранных утверждений без пробелов, запятых и других дополнительных символов.

Ответ: _____.

- 9** Кинетическая энергия тела массой m кг, движущегося со скоростью $v \frac{м}{с}$, вычисляется по формуле

$$E = \frac{mv^2}{2}$$

и измеряется в джоулях (Дж). Известно, что автомобиль массой 1200 кг обладает кинетической энергией 240 тысяч джоулей. Найдите скорость этого автомобиля в метрах в секунду.

Ответ: _____.

- 10** Оля, Денис, Витя, Артур и Рита бросили жребий — кому начинать игру. Найдите вероятность того, что начинать игру должна будет девочка.

Ответ: _____.

- 11** В амфитеатре 15 рядов, причём в каждом следующем ряду на одно и то же число мест больше, чем в предыдущем. В третьем ряду 26 мест, а в седьмом ряду — 38 мест. Сколько мест в последнем ряду амфитеатра?

Ответ: _____.

- 12** Из A в B одновременно выехали два автомобиля. Первый проехал с постоянной скоростью весь путь. Второй проехал первую половину пути со скоростью, меньшей скорости первого автомобиля на 11 км/ч, а вторую половину пути проехал со скоростью 66 км/ч, в результате чего прибыл в B одновременно с первым автомобилем. Найдите скорость первого автомобиля, если известно, что она больше 40 км/ч.

Ответ: _____.

Не забудьте перенести все ответы в БЛАНК ОТВЕТОВ в соответствии с инструкцией по выполнению работы.

**Система оценивания экзаменационной работы по математике
(200-е номера вариантов)**

Каждое из заданий 1–12 считается выполненным верно, если экзаменуемый дал верный ответ в виде целого числа, конечной десятичной дроби или последовательности цифр. Верное выполнение каждого задания оценивается 1 баллом. В ответе на задание 8 порядок записи цифр значения не имеет.

Номер задания	Правильный ответ
1	17,5
2	0,5
3	3
4	312
5	2
6	37
7	6400
8	13 <или> 31
9	20
10	0,4
11	62
12	44

**Образец экзаменационного варианта
ГВЭ-9 (письменная форма) 2026 года по МАТЕМАТИКЕ
(300-е номера вариантов)**

Инструкция по выполнению работы

Экзаменационная работа состоит из 10 заданий базового уровня сложности с кратким ответом.

На выполнение экзаменационной работы по математике отводится 3 часа 55 минут (235 минут).

Ответы к заданиям 1–10 запишите в поля ответов в работе, а затем перенесите в бланк ответов. Для этого в бланке ответов запишите номера всех заданий в столбец следующим образом:

1)
2)
3)
...
9)
10)

Ответы к заданиям 1–10 запишите в бланк ответов справа от номеров соответствующих заданий. В случае записи неверного ответа зачеркните его и запишите рядом новый.

При выполнении работы разрешается использовать линейку.

Бланк ответов заполняется яркими чёрными чернилами. Допускается использование гелевой или капиллярной ручки.

При выполнении заданий можно пользоваться черновиком. Записи в черновике не учитываются при оценивании работы.

Баллы, полученные Вами за выполненные задания, суммируются. Постарайтесь выполнить как можно больше заданий и набрать наибольшее количество баллов.

Желаем успеха!

СПРАВОЧНЫЕ МАТЕРИАЛЫ ПО МАТЕМАТИКЕ

АЛГЕБРА

- Формула корней квадратного уравнения $ax^2 + bx + c = 0$:

$$x = \frac{-b \pm \sqrt{D}}{2a}, \text{ где } D = b^2 - 4ac.$$

- Если квадратный трёхчлен $ax^2 + bx + c$ имеет два корня x_1 и x_2 , то

$$ax^2 + bx + c = a(x - x_1)(x - x_2);$$

если квадратный трёхчлен $ax^2 + bx + c$ имеет единственный корень x_0 , то

$$ax^2 + bx + c = a(x - x_0)^2.$$

- Абсцисса вершины параболы, заданной уравнением $y = ax^2 + bx + c$:

$$x_0 = -\frac{b}{2a}.$$

- Формула n -го члена арифметической прогрессии (a_n) , первый член которой равен a_1 и разность равна d :

$$a_n = a_1 + d(n - 1).$$

- Формула суммы первых n членов арифметической прогрессии:

$$S_n = \frac{(a_1 + a_n)n}{2}.$$

- Формула n -го члена геометрической прогрессии b_n , первый член которой равен b_1 , а знаменатель равен q :

$$b_n = b_1 \cdot q^{n-1}$$

- Формула суммы первых n членов геометрической прогрессии:

$$S_n = \frac{(q^n - 1)b_1}{q - 1}.$$

- Формулы сокращённого умножения:

$$(a + b)^2 = a^2 + 2ab + b^2;$$

$$(a - b)^2 = a^2 - 2ab + b^2;$$

$$a^2 - b^2 = (a - b)(a + b).$$

- Свойства арифметического квадратного корня:

$$\sqrt{ab} = \sqrt{a} \cdot \sqrt{b} \text{ при } a \geq 0, b \geq 0; \quad \sqrt{\frac{a}{b}} = \frac{\sqrt{a}}{\sqrt{b}} \text{ при } a \geq 0, b > 0.$$

- Свойства степени при $a > 0, b > 0$

$$a^{-n} = \frac{1}{a^n}; \quad a^n \cdot a^m = a^{n+m}; \quad \frac{a^n}{a^m} = a^{n-m};$$

$$(a^n)^m = a^{nm}; \quad (ab)^n = a^n \cdot b^n; \quad \left(\frac{a}{b}\right)^n = \frac{a^n}{b^n}.$$

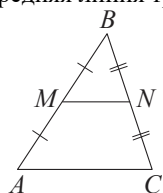
Таблица квадратов двузначных чисел

		Единицы									
		0	1	2	3	4	5	6	7	8	9
Десятки	1	100	121	144	169	196	225	256	289	324	361
	2	400	441	484	529	576	625	676	729	784	841
	3	900	961	1024	1089	1156	1225	1296	1369	1444	1521
	4	1600	1681	1764	1849	1936	2025	2116	2209	2304	2401
	5	2500	2601	2704	2809	2916	3025	3136	3249	3364	3481
	6	3600	3721	3844	3969	4096	4225	4356	4489	4624	4761
	7	4900	5041	5184	5329	5476	5625	5776	5929	6084	6241
	8	6400	6561	6724	6889	7056	7225	7396	7569	7744	7921
	9	8100	8281	8464	8649	8836	9025	9216	9409	9604	9801

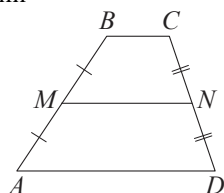
ГЕОМЕТРИЯ

Сумма углов выпуклого n -угольника равна $180^\circ(n-2)$.

Средняя линия треугольника и трапеции

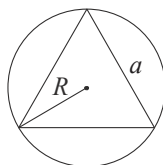


MN — ср. лин.
 $MN \parallel AC$
 $MN = \frac{AC}{2}$



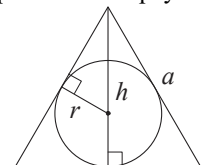
$BC \parallel AD$
 MN — ср. лин.
 $MN \parallel AD$
 $MN = \frac{BC + AD}{2}$

Описанная и вписанная окружности правильного треугольника



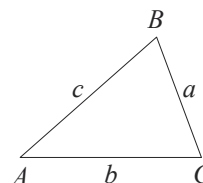
$$R = \frac{a\sqrt{3}}{3}$$

$$S = \frac{a^2\sqrt{3}}{4}$$



$$r = \frac{a\sqrt{3}}{6}$$

$$h = \frac{a\sqrt{3}}{2}$$



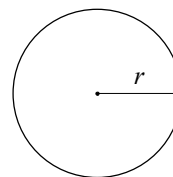
Для треугольника ABC со сторонами $AB = c$, $AC = b$, $BC = a$:

$$\frac{a}{\sin A} = \frac{b}{\sin B} = \frac{c}{\sin C} = 2R,$$

где R — радиус описанной окружности.

Для треугольника ABC со сторонами $AB = c$, $AC = b$, $BC = a$:

$$c^2 = a^2 + b^2 - 2ab \cos C.$$

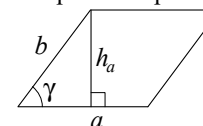


Длина окружности $C = 2\pi r$.

Площадь круга $S = \pi r^2$.

Площади фигур

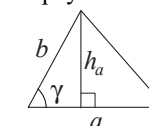
Параллелограмм



$$S = ah_a$$

$$S = ab \sin \gamma$$

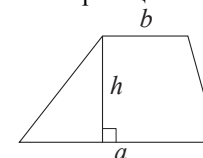
Треугольник



$$S = \frac{1}{2}ah_a$$

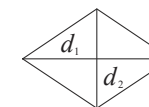
$$S = \frac{1}{2}ab \sin \gamma$$

Трапеция



$$S = \frac{a+b}{2} \cdot h$$

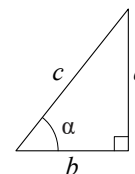
Ромб



d_1, d_2 — диагонали

$$S = \frac{1}{2}d_1d_2$$

Прямоугольный треугольник



$$\sin \alpha = \frac{a}{c}$$

$$\cos \alpha = \frac{b}{c}$$

$$\operatorname{tg} \alpha = \frac{a}{b}$$

Теорема Пифагора: $a^2 + b^2 = c^2$.

Основное тригонометрическое тождество: $\sin^2 \alpha + \cos^2 \alpha = 1$.

Некоторые значения тригонометрических функций

α	градусы	0°	30°	45°	60°	90°	180°	270°	360°
$\sin \alpha$		0	$\frac{1}{2}$	$\frac{\sqrt{2}}{2}$	$\frac{\sqrt{3}}{2}$	1	0	-1	0
$\cos \alpha$		1	$\frac{\sqrt{3}}{2}$	$\frac{\sqrt{2}}{2}$	$\frac{1}{2}$	0	-1	0	1
$\operatorname{tg} \alpha$		0	$\frac{\sqrt{3}}{3}$	1	$\sqrt{3}$	—	0	—	0

Ответами к заданиям 1–10 являются целое число, конечная десятичная дробь или последовательность цифр. Ответ запишите в поле ответа в тексте работы, затем перенесите в БЛАНК ОТВЕТОВ справа от номера соответствующего задания. Единицы измерений писать не нужно.

1 Найдите значение выражения $\frac{1,7+3,8}{2,2}$.

Ответ: _____.

2 Найдите корень уравнения $4(x-8)=-5$.

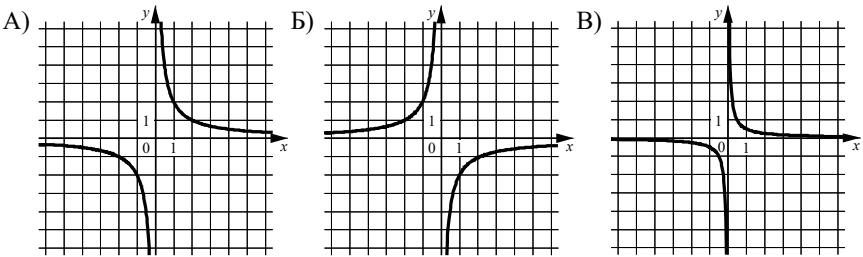
Ответ: _____.

3 Найдите значение выражения $(\sqrt{5}-\sqrt{3})(\sqrt{5}+\sqrt{3})$.

Ответ: _____.

4 Установите соответствие между графиками функций и формулами, которые их задают.

ГРАФИКИ



ФОРМУЛЫ

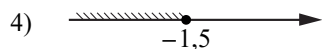
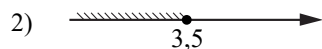
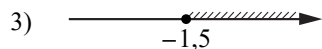
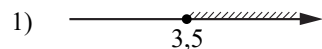
- 1) $y = \frac{2}{x}$ 2) $y = \frac{1}{2x}$ 3) $y = -\frac{2}{x}$

В таблице под каждой буквой укажите соответствующий номер.

А	Б	В

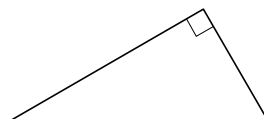
5 Укажите решение неравенства

$$4x + 5 \geq 6x - 2.$$



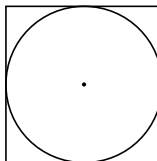
Ответ:

6 Один из острых углов прямоугольного треугольника равен 34° . Найдите его другой острый угол. Ответ дайте в градусах.



Ответ: _____.

7 Найдите площадь квадрата, описанного около окружности радиуса 40.



Ответ: _____.

8 Какие из следующих утверждений верны?

- 1) Каждая из биссектрис равнобедренного треугольника является его высотой.
- 2) Если в параллелограмме две соседние стороны равны, то такой параллелограмм — это ромб.
- 3) Все диаметры одной и той же окружности равны между собой.

В ответ запишите номера выбранных утверждений без пробелов, запятых и других дополнительных символов.

Ответ: _____.

9 Свежие фрукты содержат 78 % воды, а высушенные — 22 %. Сколько сухих фруктов получится из 78 кг свежих фруктов?

Ответ: _____.

10 Оля, Денис, Витя, Артур и Рита бросили жребий — кому начинать игру. Найдите вероятность того, что начинать игру должна будет девочка.

Ответ: _____.

Не забудьте перенести все ответы в БЛАНК ОТВЕТОВ в соответствии с инструкцией по выполнению работы.

Система оценивания экзаменационной работы по математике
(300-е номера вариантов)

Каждое из заданий 1–10 считается выполненным верно, если экзаменуемый дал верный ответ в виде целого числа, конечной десятичной дроби или последовательности цифр. Верное выполнение каждого задания оценивается 1 баллом. В ответе на задание 8 порядок записи цифр значения не имеет.

Номер задания	Правильный ответ
1	2,5
2	6,75
3	2
4	132
5	2
6	56
7	6400
8	23
9	22
10	0,4